

第12回 縄文楽検定 問題 (初級)

- 4択式の50問で、制限時間は40分です。係員の指示で始めてください。
- 各問題について、正しいものを1つ選び、別紙の回答用紙に丸印をつけてください。

1 「火焰土器」はどれでしょうか？



a)



b)



c)



d)

2 右の写真の土器は津南町にある遺跡のもので、火焰型土器の中でも最大級の大きさ(高さ)を誇ります。出土した遺跡と高さの組み合わせで正しいものはどれでしょうか？

- a) 上稲場遺跡出土、高さ約51cm
- b) 道尻手遺跡出土、高さ約61cm
- c) 堂平遺跡出土、高さ約52cm
- d) 幅上遺跡出土、高さ約58cm



3 火焰型土器に付けられていない突起は？

- a) 鶏冠状突起 b) 袋状突起 c) 眼鏡状突起 d) カエル状突起

4 AMS法の年代測定には、「炭化物」などが必要です。土器の内面に残された「炭化物」とは主に何でしょうか？

- a) 食材のおこげ b) 加熱に使用した薪
- c) 料理に紛れ込んだ砂 d) 土器の材料の粘土

5 年代測定の結果、火焰型土器は縄文時代の何期、約何年前ころの縄文土器と判明したでしょうか？

- a) 早期、約9千年前 b) 前期、約6千年前
- c) 中期、約5千年前 d) 後期、約4千年前

6 火焰型土器の平均的な容量はどれくらいでしょうか？

- a) 2,000ml b) 3,000ml c) 4,000ml d) 5,000ml

7 火焰型土器の色調に関わるとされる、鉄分の量と色の組み合わせで正しいものを選んでください。

- a) 赤色系－鉄分：少 b) 黒褐色系－鉄分：多
c) 白色系－鉄分：少 d) 黒褐色系－鉄分：少

8 王冠型土器はどれでしょうか？



a)



b)



c)



d)

9 写真は新潟市秋葉遺跡出土の王冠型土器ですが、この土器が持つ、他の一般的な王冠型土器とは異なる特徴は何でしょうか？

- a) 短冊状突起が4つある b) 縄文がついている
c) 眼鏡状突起がついている d) 袋状突起がついている



10 火焰型土器につけられる文様やパーツの基本となるものを選んでください。

- a) 円錐形の粘土ブロック b) 厚い粘土版
c) C字状の粘土紐 d) S字状の粘土版

11 縄文土器の底には、土器をつくる時に敷いた物の痕跡が残っていることがあります。次のうち、敷かれていたと考えられる物を選んでください。

- a) トチノミの殻（果皮） b) 回転ロクロ c) 和紙 d) 網代（編み物）

12 長岡市にある火焰型土器が出土していない遺跡はどれでしょうか？

- a) 岩野原遺跡 b) 山下遺跡 c) 栃倉遺跡 d) 藤橋遺跡

13 以下の4つから、津南町に所在する遺跡を選んでください。

- a) 沖ノ原遺跡 b) 野首遺跡 c) 幅上遺跡 d) 森上遺跡

14 火焰型土器を特徴づけているこの部分（写真）は何と呼ばれているのでしょうか？

- a) 鶏冠状突起 b) 袋状突起
- c) 眼鏡状突起 d) 橋状突起



15 以下の4つのうち、遺跡名の読みかたがまちがっているものはどれでしょうか？

- a) 小千谷市・徳右エ門山遺跡ーとくうえもんやま b) 長岡市・山下遺跡ーさんか
- c) 津南町・南原遺跡ーみなんばら d) 魚沼市・清水上遺跡ーしみずがみ

16 およそ8千年前に信濃川流域に雪が多く降るようになったのはなぜでしょうか？

- a) 信濃川流域の人口が減ったから b) 日本海の気圧が上昇したから
- c) 氷河期が終わり間氷期になったから d) 日本海に対馬海流が流れ込んだから

17 縄文時代の説明として不適切なものを選んでください。

- a) 岩石を磨いた斧で樹木を伐採していた b) 貯蔵穴を掘り、木の実などを蓄えた
- c) 狩猟や漁労を行っていた d) 水田をつくり、稲作を行っていた

18 新潟県内で唯一、火焰型土器を含む出土品が国宝に指定されているのは、次のうち何という遺跡でしょうか？

- a) 棚畑遺跡 b) 笹山遺跡 c) 馬高遺跡 d) 堂平遺跡

19 国学院大学名誉教授・小林達雄氏は藤岡みなみさんとの対談の中で、「火焰型土器の広がり面白いことに今の□に重なります」と説明しています。□に入る言葉を選んでください。

- a) 東日本 b) 新潟市 c) 甲信越 d) 新潟県

20 縄文時代にも飼われていたと考えられる「動物」は何でしょうか？

- a) ネコ b) ニワトリ c) ウマ d) イヌ

21 新潟県内のある遺跡からは「栄光杯」と名付けられ、まちの文化財保護のシンボルとなっている台付浅鉢が発見されています。この遺跡と所在地はどれでしょうか？

- a) 加茂市・水源地遺跡 b) 阿賀野市・ツベタ遺跡
- c) 五泉市・大蔵遺跡 d) 魚沼市・正安寺遺跡

22 南魚沼市の原遺跡など、魚野川流域で特徴的に出土が少ない遺物は何でしょうか？

- a) 王冠型土器 b) 土偶 c) 滑車形耳飾り d) 打製石斧

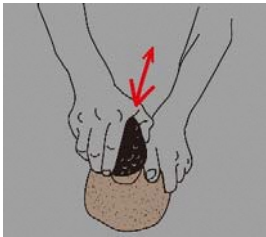
23 「縄文海進（じょうもんかいしん）」の説明として正しいものはどれでしょうか？

- a) 温暖化が進み、海面が上昇した b) 寒冷化が進み、海面が上昇した
c) 温暖化が進み海面が低下した d) 寒冷化が進み、海面が低下した

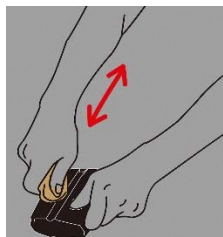
24 縄文人がトチ・クリなどを割ったりすりつぶしたりするために、一つのセットとして使用した石器の組み合わせを選んでください。

- a) 三脚石器と石棒 b) 石皿と磨石 c) 石槍と石錐 d) 磨製石斧と打製石斧

25 ヒスイなどからまが玉をつくる主な技術はどれでしょうか？



a) 研磨
(とぐ・みがく)



b) 擦切
(みぞをつけてわる)



c) 押圧剥離
(おしはがす)



d) 敲打
(うちかく)

26 火焰型土器の時代につくられた三脚石器を以下の写真から1つ選んでください。



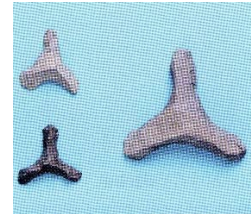
a)



b)



c)



d)

27 火焰型土器に伴う遺物で、土偶を省略したと考えられている土製品の写真を1つ選んでください。



a)



b)



c)



d)

28 以下の4つから、弥生時代にはつくられていないものを選んでください。

- a) 竪穴住居 b) 石の首飾り c) 三角形土製品 d) 土器

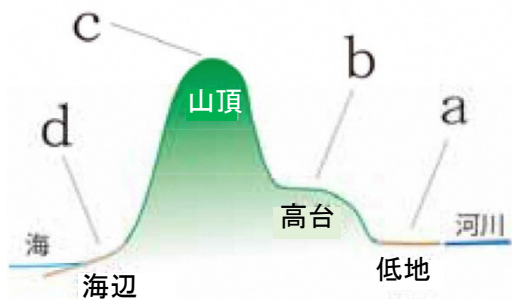
29 次の遺跡ではいずれも火焰型土器か王冠型土器が出土しています。信濃川火焰街道連携協議会に加盟していない市町の遺跡を選んでください。

- a) 新潟市・大沢遺跡 b) 三条市・吉野屋遺跡
- c) 小千谷市・俣沢遺跡 d) 魚沼市・正安寺遺跡

30 火炎土器文化にみられる集落のかたちで、広場を中心として竪穴住居が放射状に配置される形状は何と呼ばれるでしょうか？

- a) C字状集落 b) 環濠集落 c) 高地性集落 d) 環状集落

31 問30のような集落が最もつくられやすい場所を図中a～dから選んでください。



32 以下の4つのうち、発掘された住居跡の写真ではないものどれでしょうか？



a)



b)



c)



d)

33 火焰型土器がつくられた時代に、人々がくらしていた竪穴住居の平面形に多いのは、長方形と何形でしょうか？

- a) 三角形 b) 正方形やひし形 c) ひょうたん形 d) 円形もしくは卵形

34 縄文時代の集落から検出されるフラスコ状土坑は、主に何を貯蔵したと考えられるでしょうか？

- a) ウルシ b) 石材 c) 木の実 d) 粘土

35 火焰型土器の時代、土器に残された「おこげ」の分析をとおし、土器で煮て食べていたものの種類がわかるようになってきましたが、あてはまらないのはどれですか？

- a) シカ・イノシシ b) クリ・トチ c) サケ・マス d) ナウマンゾウ

36 新潟市大沢遺跡から発見された植物の花粉の組み合わせとして、正しいものを選んでください。

- a) クルミ・フジヅルかつウルメモドキ・アケビ b) ヤマザクラ・スギ・タンポポ
c) ユリかヒガンバナ・ゼンマイ・ソバ d) ウルイ・クリかトチ・ヤブツルアズキ

37 長岡市立科学博物館の考古学研究室の初代学芸員として、同館に寄贈された近藤家の馬高遺跡をはじめとする膨大な資料を整理した人の名前は？

- a) 吉田東伍 b) 近藤篤三郎 c) 中村孝三郎 d) 江坂輝弥

38 次のうち、主に縄文時代のものが出土する遺跡はどれでしょうか？

- a) 新潟市・的場遺跡 b) 新潟市・古津八幡山遺跡
c) 見附市・羽黒遺跡 d) 長岡市・荒屋遺跡

39 日本遺産構成文化財の一つである新潟市西区の佐潟は、「特に水鳥の生息地として国際的に重要な湿地に関する条約」による登録湿地となっています。この条約は何というでしょうか？

- a) ワシントン条約 b) ヴェルサイユ条約 c) ラムサール条約 d) パリ条約

40 「日本遺産の構成文化財でもある新潟市北区の福島潟は、国の天然記念物□□の越冬地としても知られています」この文の□□にあてはまるのは次のどれでしょうか？

- a) オオヒシクイ b) コウノトリ c) マナヅル d) トキ

41 日本遺産『「なんだ、コレは！」信濃川流域の火焰型土器と雪国の文化』の構成文化財で、現在の集落と同じところに縄文ムラがあり、鈴木牧之の著した書物にも登場するところを選んでください。

- a) 龍ヶ窪 b) 田代の七ツ釜 c) 秋山郷 d) 八木ヶ鼻

42 福島県会津地方の土器と似た土器があり、「八十里越」を越えて交流があったことがうかがえる三条市の遺跡を選んでください。

- a) 門の沢遺跡 b) 耳取遺跡 c) 水源地遺跡 d) 長野遺跡

43 日本遺産『「なんだ、コレは！」信濃川流域の火焰型土器と雪国の文化』のストーリーに「古今東西の焼き物の中で（ ）を持つものは、火焰型土器に代表される日本の縄文土器だけ」とありますが、（ ）に入る言葉は次のうちどれでしょうか？

- a) くびれ b) 凹凸 c) 突起 d) 装飾

44 津南町のお菓子屋さんで沖ノ原遺跡にちなんだお菓子が売られています（右写真）。そのモチーフはなんですか？

- a) 石組炉 b) ひまわり c) 竪穴住居 d) 貯蔵穴



45 十日町市で毎年開催されている、国宝指定を記念して始まった地元住民による手作りイベントはなんですか？

- a) 王神祭 b) 笹山じょうもん市 c) 十日町雪まつり d) 大地の芸術祭

46 日本遺産『「なんだ、コレは！」信濃川流域の火焰型土器と雪国の文化』の構成文化財の一部が展示されている海外の博物館・美術館はどこですか？（令和2年3月1日現在）

- a) イギリスの大英博物館 b) フランスのルーブル美術館
c) ロシアのエルミタージュ博物館 d) アメリカのメトロポリタン博物館

47 「なんだ、コレは！」は、ある人物が縄文土器をみて発したといわれる言葉です。その人物とは誰ですか？

- a) 北大路魯山人 b) 岡本太郎 c) パブロ・ピカソ d) 森本六爾

48 以下の4つから、日本遺産『「なんだ、コレは！」信濃川流域の火焰型土器と雪国の文化』の構成文化財に含まれていないものを選んでください。

- a) 信濃川 b) 西福寺開山堂 c) 浅草岳 d) 河岸段丘群

49 次の施設のうち、2020年6月に新館の開館を迎えるものはどれですか？

- a) 三条市歴史民俗産業史料館 b) 長岡市馬高縄文館
c) 十日町市博物館 d) 農と縄文の体験実習館なじょもん

50 新潟市陸上競技場にある火焰型土器をモチーフにした炬火台はつぎのうちどれですか？



a)



b)



c)



d)

お疲れ様でした。

解答用紙に受検番号、氏名、住所等が記入してあることをご確認ください。