

繩文楽検定

第3回 中級 問題

第3回 縄文楽検定 問題 (中級)

- 四択・記述式の 50 問で、制限時間は 60 分です。係員の指示で始めてください。
- 下記の問題について、正しいものを選んで別紙の回答用紙に丸印をつけるか又は答えを書いてください。

【問題】

1 次の4つの土偶のうち、国宝「縄文のヴィーナス」はどれでしょう。

a)




b)



c)



d)



2 では、その高さはどれくらいでしょう。


- a) 約 17cm b) 約 27cm c) 約 37cm d) 約 47cm

3 縄文時代の遺物として日本で2番目に国宝に指定されたのはどれでしょう。

a)



b)



c)



d)



4 では、指定されたのはいつのことでしょう。

- a) 平成 2 年 b) 平成 4 年 c) 平成 7 年 d) 平成 11 年

5 縄文土器は、E・S・モースが大森貝塚出土の土器に対して用いた cord marked pottery の語が名称の由来ですが、はじめ「索紋」と訳されたものを「縄紋」の訳語をあてたのは誰でしょう。

- a) 山内清男 b) 白井光太郎 c) 坪井正五郎 d) 小林達雄

6 次の4つの土器のうち、最も古いと考えられる土器はどれでしょう。

a)



b)



c)



d)



7 土器の出現は、人々の生活にどのような利点をもたらしましたか。

- a) 土器が大陸への重要な輸出品になり、経済的に豊かになった
- b) より良い土器の製法を学ぶため、多くの人々が大陸にわたるようになった
- c) 食料を煮炊きしたり、貯蔵したりすることが容易になった
- d) 狩猟や木の実などの採集の能率が飛躍的に高まった

8 縄文時代草創期後半は、短期間のうちに極寒冷期と温暖期が交互に繰り返す気候変動期でした。これを何と呼ぶでしょう。

- a) リトリナ期
- b) ヤンガードリアス期
- c) ヴュルム期
- d) ミンデル期

9 縄文時代前期前葉から中葉にかけてはかなり温暖で、千葉県館山付近の海辺に珊瑚が生育する環境であったことが知られています。海面が上昇して海水が陸地の低地部に入りこむ現象を何と呼ぶでしょう。

縄文_____

10 北海道から北陸にかけての縄文時代の9遺跡から編布の残欠が出土しています。植物の繊維を編んで作られた布のことを何と呼ぶでしょう。

- a) カラムシ
- b) カンプクロ
- c) アンギン
- d) ブイトウ

11 日本で織布が始まるのは弥生時代からといわれていますが、現在のところ編布の起源はどこまで遡ることができるでしょうか。

- a) 早期
- b) 前期
- c) 中期
- d) 後期

12 火焰型土器に伴う遺物で、写真右の土製品は何と呼ばれているでしょう。

- a) 滑車型耳飾
- b) 三角形土版
- c) 三角とう形土製品
- d) 土錘



13 写真右の土器には文様にどんな土製品がつけられているでしょう。

- a) 滑車型耳飾
- b) 三角形土版
- c) 三角とう形土製品
- d) 土錘



14 写真のようなぺチャっとした土偶は何遺跡で見つかったものでしょう。

- a) 釈迦堂遺跡 b) 山下遺跡 c) 吉野屋遺跡 d) 中ッ原遺跡



15 いわゆる立つことのできる立像型の土偶が作られるようになるのは、縄文時代のいつ頃からでしょうか。

- a) 前期 b) 中期 c) 後期 d) 晩期

16 新発田市の上車野E遺跡で見つかった住居の穴（写真右）は何のために掘られた穴と考えられているでしょう。

- a) トイレ b) ごみ穴 c) お墓 d) 貯蔵穴



17 ドングリやトチノミなど木の実を磨りつぶす臼として用いられた道具（写真右）は何と呼ばれているでしょう。

- a) 石錐 b) 磨石 c) 石冠 d) 石皿



18 写真のようにだんご状の炭化物がつまった状態で見つかったのは何という遺跡でしょう。

- a) 吉野屋遺跡 b) 岩野原遺跡 c) 笹山遺跡 d) 沖ノ原遺跡



19 山形県の押出遺跡のクッキー状炭化物を分析したところ、検出されなかった成分は何でしょう。


- a) 魚の脂 b) シカの肉 c) 野鳥の卵 d) クリ

20 地面を掘り下げて、そこを床として柱を建て、周囲に屋根を葺きおろした住居を何と呼ぶでしょう。

- a) 平地住居 b) 高床住居 c) 竪穴住居 d) 洞穴住居

21 写真は津南町堂尻遺跡で見つかった住居ですが、時折壁に沿って床が一段高くなった部分をもっています。この部分は何と呼ばれているでしょうか。

_____状遺構



22 環状列石、組石遺構、敷石遺構、立石遺構（写真右）など石で造られた遺構の総称は何と呼ばれているでしょうか。

_____遺構

23 地域間交流によって縄文ムラにもたらされた天然アスファルトは何に利用されたと考えられているでしょう。

- a) 道路の補修材 b) 燃料 c) 接着剤 d) 石器の石材

24 同じように地域間交流によってもたらされた琥珀（こはく）は松ヤニなどの樹脂が化石化したものですが、産地として有名なのはどこでしょう？

- a) 千葉県銚子市 b) 東京都の神津島 c) 新潟県の佐渡市 d) 奈良県の二上山

25 火焰型土器などにはほとんど見られませんが、土器のひび割れや一部が壊れた際に、その部分の両側に対称的に穿孔して、縄紐などで綴じ合わせるための孔を何と呼ぶでしょう。

_____孔

26 縄文前期から弥生中期にかけて盛行した、成人式や婚姻儀礼の際に行なわれたと考えられている、人の健康な歯牙を意図的に抜去する習俗のことを何というでしょう。

27 縄文人が利用していた食料資源は500種をはるかに超えていたと推定されますが、カロリーのおよそどれくらいを植物質の食料から得ていたと考えられているでしょう。

- a) 3分の1 b) 2分の1 c) 3分の2 d) 4分の3

28 縄文時代の人々が賞味していなかったと考えられるものは、次のどれでしょう。

- a) 果実酒 b) イノシシ c) クリ d) マツタケ

29 長岡市中道遺跡では火災に遭ったとみられる住居跡が発見されていますが、焼け落ちた棚の上で見つかった木の実は何でしょう。

- a) ドングリ b) クリ c) トチノミ d) クルミ

30 次の木の実のうち、生で食べられないものはどれでしょう。

- a) ドングリ b) クリ c) ブナ d) クルミ

31 長岡市三島の根立遺跡の泥炭層中から出土し、蒔いたところ芽が出て話題となった木の実は何でしょう。

- a) ドングリ b) クリ c) トチノミ d) クルミ

32 沖ノ原式土器の標式遺跡である沖ノ原遺跡があるのはどこでしょう。

- a) 三条市 b) 津南町 c) 糸魚川市 d) 十日町市

33 三十稲場式土器の標式遺跡である三十稲場遺跡があるのはどこでしょう。

- a) 新潟市 b) 津南町 c) 長岡市 d) 十日町市

34 一番大きな王冠型土器は何遺跡から出土しているのでしょうか？（2008年3月現在）

- a) 堂平遺跡 b) 道尻手遺跡 c) 岩野原遺跡 d) 笹山遺跡

35 ではその大きさは？

- a) 約47cm b) 約52cm c) 約57cm d) 約62cm



36 写真の火焰型土器はもう1点の土器とともに長い間、千葉県佐倉市の国立歴史民俗博物館に貸し出されていましたが、返却されて現在は十日町市博物館に収蔵、展示されています。遺跡は一部分が発掘調査されましたが、そのほとんどは砂で盛土保存され今でも地中に眠っています。何という遺跡で見つかったものでしょう。

- a) 南雲遺跡 b) 森上遺跡 c) 幅上遺跡 d) 芋川原遺跡



37 数年前に調査された新潟県の縄文時代遺跡の統計では、火炎土器の時代である中期中葉の遺跡数は概ねどれくらいでしょう。

- a) 300 遺跡 b) 400 遺跡 c) 500 遺跡 d) 600 遺跡

38 では、新潟県の遺跡の総数は概ねどれくらいでしょう。

- a) 7,000 遺跡 b) 10,000 遺跡 c) 13,000 遺跡 d) 15,000 遺跡

39 馬高遺跡、沖ノ原遺跡は国史跡に指定されていますが、新潟県内の国史跡は全部で何件あるでしょう（平成 23 年3月現在）。

- a) 18 件 b) 28 件 c) 38 件 d) 48 件

40 信濃川は河川延長が 367km と日本で最も長い川ですが、流域面積が最も広いのはどの川でしょう。

- a) 石狩川 b) 木曾川 c) 信濃川 d) 利根川

41 信濃川で獲れるサケは、縄文時代はもちろんのこと近代以降においても重要なタンパク源でした。信濃川（津南町～小千谷市岩沢間）におけるサケの捕獲量はいつ頃が最も多かったでしょう。

- a) 昭和 3～7 年頃 b) 昭和 8～14 年頃 c) 昭和 15～19 年頃 d) 昭和 20 年以降

42 信濃川と清津川の合流点付近からは、縄文時代草創期の遺跡が数多く発見されています。10 年ほど前に発掘調査されたこの遺跡の出土品 309 点（写真右）は、平成 22 年3月に県指定有形文化財（考古資料）に指定されました。何という遺跡でしょう。

- a) 壬遺跡 b) 田沢遺跡 c) 本の木遺跡 d) 久保寺南遺跡



43 農と縄文の体験実習館は、津南町に平成 16 年8月に開館しました。「どうぞきてください」と縄文の里であることを掛けあわせた造語である、この施設の名前は何かでしょう。

44 馬高縄文館は平成 21 年9月に開館したばかりの史跡馬高・三十稲場遺跡のガイダンス施設ですが、この施設の名前は何かでしょう。

45 新潟市歴史博物館は、信濃川の河口、幕末の開港場につくられた歴史博物館です。日本海と2つの大河を通じた人とモノの交流が織りなす歴史のドラマを伝える施設として人気を集めていますが、この施設の愛称は何でしょう（ひらがな5文字）。

46 馬高遺跡から最も遠い場所から火焰型土器が見つかっているのはどこでしょう。

- a) 三内丸山遺跡 b) 前田遺跡 c) 柴燈林遺跡 d) 大光寺遺跡

47 信濃川流域の博物館と小学校が密接に連携し、平成15年から「縄文」をテーマに継続して活動しています。全国的にも大変珍しい先進的な実践として注目を集めているこのプロジェクトは何と呼ばれているでしょう。

_____連携プロジェクト

48 「火焰土器」は一巡目の新潟国体で、会場となった新潟市陸上競技場の炬火台のモデルとなりました。国体終了後に大きな地震もありましたが、いつのことでしょう。

- a) 昭和29年 b) 昭和39年 c) 昭和49年 d) 昭和59年

49 JR長岡駅の新幹線コンコースに「縄文土器。これを見たとき、心がひっくりかえる思いだった。人間生命の根源。その神秘を凝集し、つきつけた凄み。私はこんなに圧倒的な美観にぶつかったことはなかった。全身が“ぶるぶる”とふるえあがった」というプレートがあります。この言葉を残したのは誰でしょう。

- a) 近藤篤三郎 b) 中村孝三郎 c) 小林達雄 d) 岡本太郎

50 これは、笹山遺跡の国宝・火焰型土器No.1「縄文雪炎（じょうもんゆきほむら）」のマスコット・キャラクターです。ついている愛称は何でしょう。

- a) ほむらくん b) ほのおまる c) カエンちゃん d) 炎ちゃん



●ご苦勞様でした。解答用紙に受験番号・名前・住所等が記入してあることをご確認ください。

